

UNIDAD 1: LA POBLACIÓN

- **Lee atentamente**

1. EL ESTUDIO DE LA POBLACIÓN

La **población** es el conjunto de personas que habitan la tierra.

La **demografía** es la ciencia que estudia la población.

- **Continúa leyendo:**

1.1. LAS FUENTES DEMOGRÁFICAS

Las **fuentes demográficas** son documentos donde se recogen datos sobre la población. Los más importantes son:

- **Los padrones municipales.** Son documentos que contienen la relación de habitantes de un municipio.
- **El Registro Civil.** En él se inscriben los nacimientos, matrimonios y defunciones.
- **Los Censos.** Son recuentos periódicos de la población de un país y la hacen los gobiernos.

- **Une con flechas:**

Padrones Municipales.

Recuentos periódicos de la población de un país.

Censos.

Se inscriben nacimientos, matrimonios y defunciones.

Registro Civil.

Relación de habitantes de un municipio.

2. EVOLUCIÓN DE LA POBLACIÓN MUNDIAL

La población ha aumentado desde la prehistoria.

En un principio, este incremento no fue muy elevado, en el S XIX con los avances técnicos y médicos que mejoraron las condiciones de vida bajó el número de fallecimientos.

En el siglo XX se acelera el crecimiento mundial de la población.

Actualmente el aumento de la población no es igual en todo el planeta:

- En los **países ricos** la población está **estancada** o en **retroceso**.
 - En los **países subdesarrollados** se produce un **incremento** de la población.
- **Explica como evolucionó la población en:**

- El siglo XIX: _____

- El siglo XX: _____

- En la actualidad: _____

3. NATALIDAD, MORTALIDAD Y CRECIMIENTO NATURAL

- **Natalidad:** es el número de personas nacidas en un año. Se mide con la **Tasa de Natalidad**.
- **Mortalidad:** es el número de personas fallecidas en un año. Se mide con la **Tasa de Mortalidad**.
- **Crecimiento Natural:** Es la **diferencia** que existe en un año concreto y en un lugar determinado entre la **Tasa de Natalidad** y la **Tasa de Mortalidad**.

- **Calcula el crecimiento natural de los siguientes países en el 2002.**

País	Nacimientos	Defunciones	Crecimiento Natural
Marruecos	746780	182643	
España	403859	358856	

3.1. NATALIDAD Y MORTALIDAD EN EL MUNDO

Las tasas de natalidad y mortalidad de los distintos países son muy variadas debido a diferentes factores.

NATALIDAD

- **Países menos desarrollados.** Tienen un elevado número de hijos (natalidad alta) por distintos motivos:
 - 1.- Los hijos son trabajadores que colaboran en la economía de la familia.
 - 2.- La cultura y la religión favorecen la natalidad.

- **Países avanzados.** Tienen menos hijos (natalidad baja) por varios motivos.

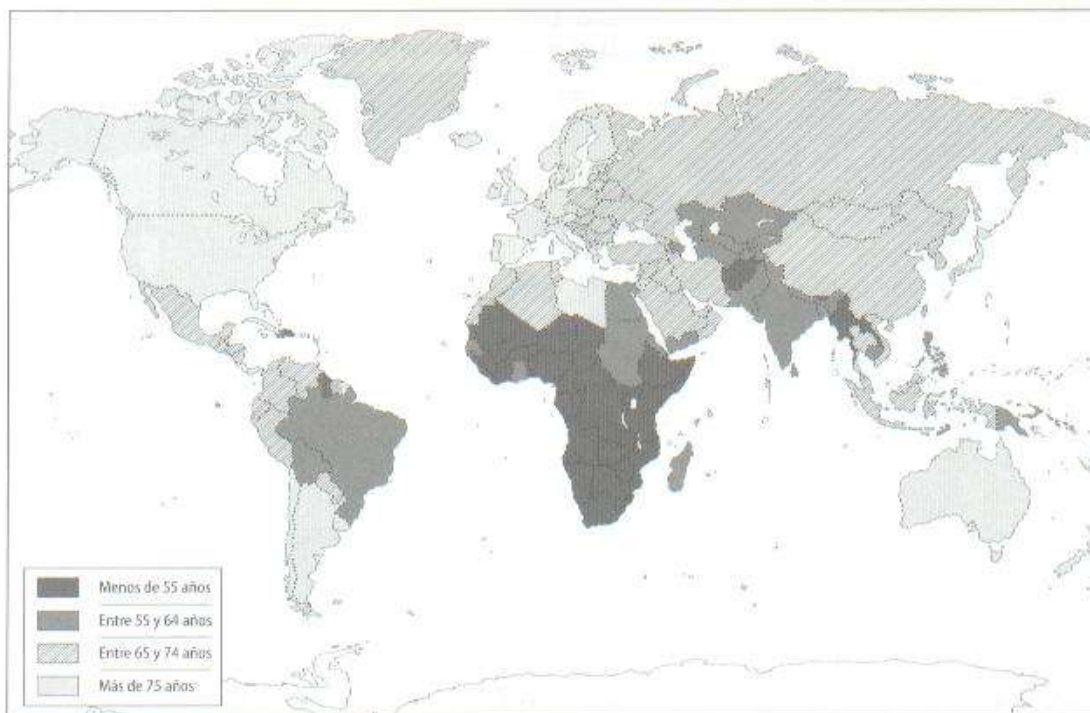
1.- Dificultad para encontrar empleo y creer que al tener menos hijos se les puede dar más bienestar.

2.- La incorporación de la mujer al trabajo. (Tienen menos tiempo para cuidar de los hijos).

MORTALIDAD

En los últimos años las mejoras en sanidad, higiene y alimentación han disminuido la mortalidad y aumentado la esperanza de vida (número medio de años que vive una persona).

Los países pobres siguen teniendo una elevada tasa de mortalidad.



- **Contesta:**

✓ ¿En qué continentes la esperanza de vida es menor? _____

✓ ¿En qué continentes la esperanza de vida es mayor? _____

✓ ¿Con qué tipos de países coinciden? Une con flechas.

Esperanza de vida alta Países subdesarrollados.

Esperanza de vida baja Países desarrollados.

3.2. EL CRECIMIENTO DE LA POBLACIÓN

Los países menos desarrollados por su alta natalidad tienen un crecimiento de la población alto.

Los países más ricos tienen un crecimiento muy bajo o incluso negativo por su baja natalidad.

4. LOS MOVIMIENTOS MIGRATORIOS

Las **migraciones** son **desplazamientos** masivos de personas de un lugar a otro.

La **emigración** es la salida de personas de su lugar de origen.

La **inmigración** es la entrada de personas de otros lugares a una zona determinada.

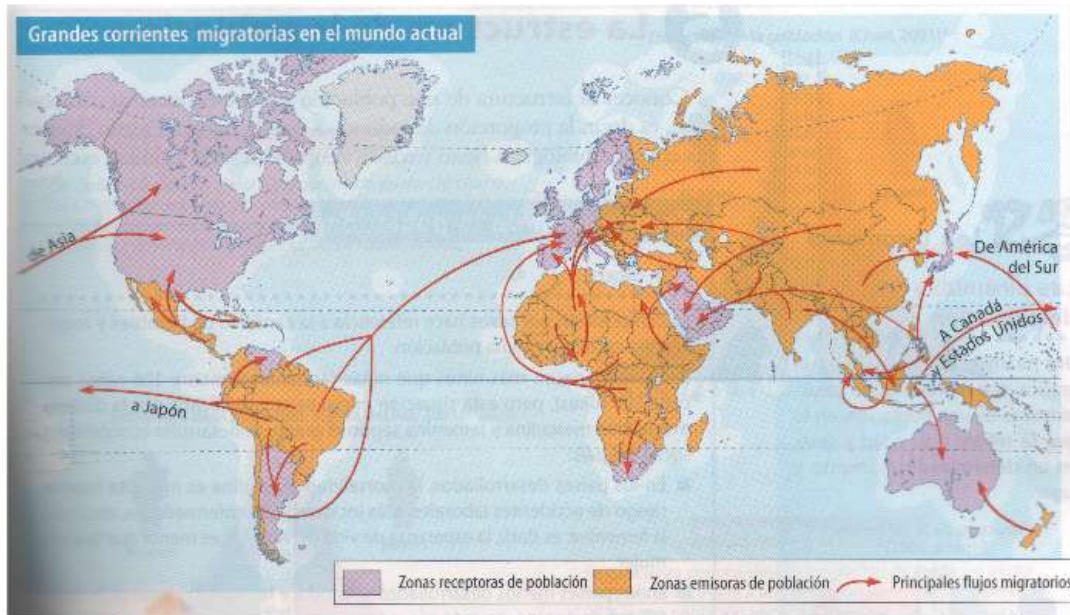
Las **migraciones interiores** se realizan dentro de un mismo país. (De Cádiz a Madrid.)

Las **migraciones exteriores** se realizan de un país a otro. (De Marruecos a España.)

4.1. CAUSAS QUE ORIGINAN LOS DESPLAZAMIENTOS

- **Económicas.** Buscar trabajo
- **Sociales.** Buscar mejor nivel de vida
- **Políticas.** Buscar países dónde vivir seguros.

En los últimos años debido a la llegada masiva de inmigrantes a países más ricos se han desarrollado **actitudes xenófobas** (ir en contra de los extranjeros).



• **Colorea el mapa anterior del siguiente modo:**

- Zonas receptoras: azul.
- Zonas emisoras: amarillo.
- Flujos migratorios: rojo.

• **Observa el mapa y contesta:**

¿Cuáles son los principales países emisores de emigrantes? _____

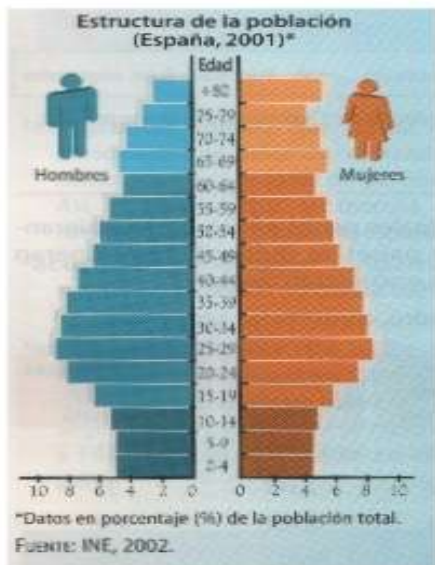
¿Por qué lo abandonan? _____

¿A qué países se dirigen? _____

¿Qué esperan encontrar en los lugares de destino? _____

¿Lo encuentran siempre? _____

5. ESTRUCTURA DE LA POBLACIÓN



Una pirámide de población es un gráfico que representa las características de una población en cuanto a edad y sexo, en un determinado momento y lugar.

- **Contesta:**

¿Qué tanto por ciento de hombres mayores de 80 años tiene España en el 2001? _____

¿Qué tanto por ciento de mujeres entre 25 y 29 años había? _____

Observa las barras pertenecientes a los niños. ¿Cómo es la natalidad en España, alta o baja? _____

6 LA DISTRIBUCIÓN DE LA POBLACIÓN

La **densidad de población** es el número de personas que viven en un lugar determinado. Se expresan en habitantes por Km². Se calcula dividiendo el número de habitantes entre el número de Km.

Los seres humanos se concentran en zonas con condiciones naturales y económicas beneficiosas (climas templados, zonas llanas, proximidad al mar, tierras fértiles...).

En zonas con condiciones adversas apenas hay población (zonas muy frías, desiertos, selvas,...)

6.1. EL PROBLEMA DE LA SUPERPOBLACIÓN

En un país existe **superpoblación** cuando el número de habitantes por Km² es tan alto que impide que la población tenga una calidad de vida adecuada.



- **Colorea el mapa de la forma siguiente:**

- Amarillo: menos de 1.
- Naranja: de 1 a 25.
- Rojo: de 25 a 100.

- **Contesta:**

¿Qué áreas son las más pobladas? _____

¿Y las menos pobladas? _____

7. POLÍTICAS DEMOGRÁFICAS EN EL MUNDO

Algunos gobiernos crean medidas para frenar o fomentar la natalidad según los problemas de cada país.

Medidas pronatalistas. La realizan países con la población envejecida. (Permisos de maternidad, ayudas a familias numerosas, guarderías,...).

Medidas antinatalistas. La realizan países pobres con una elevada natalidad. (Campañas de planificación familiar).

- **Une con flechas:**

★ Medidas antinatalistas

★ Países ricos con una natalidad muy baja y población envejecida

★ Medidas pronatalistas

★ Países pobres con una natalidad muy elevada.

8. EL POBLAMIENTO RURAL Y EL POBLAMIENTO URBANO

- **Poblamiento rural.** La población se establece en viviendas aisladas por el territorio (campo) o en pequeños núcleos (pueblos o aldeas). Se dedican fundamentalmente a la agricultura, ganadería o a la pesca.
- **Poblamiento urbano.** Se establece en ciudades. Se dedican a la industria o servicios (comercio, sanidad, educación, ocio,...)

En la actualidad la población tiende a vivir en ciudades en parte debido al éxodo rural (desplazamiento del campo a las ciudades).



- Identifica los dos tipos de poblamiento en cada una de las fotografías:
- Casares: _____
- Málaga: _____

9. LA POBLACIÓN EUROPEA Y ESPAÑOLA

9.1. LA POBLACIÓN EUROPEA

Europa es un continente muy poblado y con altas densidades de población.

Tiene la tasa de natalidad más baja del mundo, reducida mortalidad y alta esperanza de vida.

Cuenta con una inmigración elevada y el poblamiento es fundamentalmente urbano.

Continente	Habitantes	Extensión
África	820837754	30065000
Europa	728625217	9938000
América	847886391	42075000

Antártida	0	12209000
-----------	---	----------

- **Calcula la densidad de población de cada uno de los continentes.**

¿En qué posición queda Europa respecto al resto? _____

- ✓ África: _____
- ✓ Europa: _____
- ✓ América: _____
- ✓ Antártida: _____

9.2.LA POBLACIÓN ESPAÑOLA

España tiene más de 40 millones de habitantes.

La población se concentra en las costas principalmente en las ciudades y en Madrid. La densidad de población no es muy elevada. La tasa de natalidad es una de las más bajas del mundo, la mortalidad es media y la esperanza de vida alta (79 años). El crecimiento natural es mínimo.

La inmigración es alta lo que provoca un incremento de la población.

La población es fundamentalmente urbana.

- **Contesta a las siguientes preguntas:**

¿Cómo se reparte la población española? _____

¿Cómo afecta la llegada de inmigrantes al crecimiento de la población española? _____

¿De dónde proceden, fundamentalmente los inmigrantes? _____

9.3.LA POBLACIÓN ANDALUZA

Andalucía es la comunidad autónoma más poblada de España.

Actualmente la tasa de natalidad ha descendido y ha aumentado la de mortalidad debido al envejecimiento de la población. La emigración se ha frenado.

Andalucía presenta fuertes contrastes en cuanto a la ocupación del territorio. Hay áreas muy pobladas (Valle del Guadalquivir, Costa del Sol, Bahía de Cádiz).

Aunque la mayor parte de la población andaluza es urbana abunda la población rural. En las zonas del interior existe una población dispersa que vive en casas rurales o cortijos.



- **Investiga y contesta:**

✓ ¿Qué es un cortijo?

✓ ¿Quiénes viven en él? _____

✓ ¿Qué actividades se realizan? _____
